

# 2009年度 入学試験問題

## 社 会

### 中京大学附属中京高等学校

===== 受験上の注意 =====

- 1 問題用紙は17ページあります。
- 2 試験時間は 40分 です。
- 3 解答用紙に、氏名（ふりがな）・受験番号・中学校名・中学校コードを必ず記入し、受験番号と中学校コードをマークしてください。
- 4 マークの記入は、必ずHBの黒鉛筆で、所定のマーク解答欄の□を正確にぬりつぶしてください。
- 5 記述の記入は、所定の記述解答欄にていねいに行ってください。
- 6 訂正は、プラスチック製消しゴムできれいに消してください。
- 7 解答用紙を、折り曲げたり、汚したりしないでください。

〔1〕次の文章は『一度も植民地にならなかったことがない日本』（デュラン・れい子著）からの抜粋です。これを読み、あとの各問いに答えなさい。

1) 安土桃山時代、はるばる日本に來航したスペインやポルトガルのバテレン（宣教師）たちのことは、よく知られている。彼らはヨーロッパの珍しいものを多数持参し、織田信長などの興味を引いたが、彼らの真の目的はキリスト教布教とともに母国の領土を拡大することだった。つまり、彼らは我が日本をも□A□やマカオ同様、植民地にしようとしていたのだった。このことに興味を示す日本人が少ないのはなぜだろう。

だから信長に続く日本の為政者たちがキリスト教を恐れたのは正しい判断だったと思う。もしキリスト教布教を認めたら、日本はスペインかポルトガルの植民地になっていたに違いない。

ローマ法王の名において政治が動かされていたヨーロッパに比べ、そのころの日本はすでに政教分離がなされており、格段に進んでいたのである。

（中略）

もう一度申し上げます。当時の日本はヨーロッパ以上の文化を誇る国だったのです。それゆえ布教を名目にアフリカ、アジアで植民地拡大を進めていたスペイン、ポルトガルも日本だけは植民地にすることができなかったのではないだろうか。

\*

しかも当時の日本人は、バテレンたちのもたらしたヨーロッパ文化にコンプレックスを持たなかったばかりでなく、自分たちとは異なる文化としてのみ興味を持ち、敬意を表した。それは「地球は丸い」とバテレンたちから聞いた信長が、即座に納得したという逸話からも窺<sup>うかが</sup>える。

（中略）

2) この時代の日本は、白人崇拜も黒人蔑視もないばかりか、奴隷制度さえなかったというのだから、このあと、アメリカへ奴隷輸出をはじめめるヨーロッパにくらべ、何という文化国家であったことか！この歴史をヨーロッパ人が知らないのはしかたないとしても、日本人で関心のない人が多いのは残念というしかない。

さらに言えば、当時の京都は大都市であり、産業・流通・文化とも、ローマ、パリ、ロンドンをしのいでいた。このことを知るヨーロッパ人に会ったことがないし、私が説明しても彼らはまったく興味を示さないのは歯がゆい限りだ。

3) 徳川時代に入り、日本は鎖国。幕末、黒船來航により、□B□年の眠りをさまされ、突然見せつけられたのは産業革命の産物である蒸気船・ガス灯・汽車など絢爛たる西歐文明だった。いったん新しいテクノロジーが生まれるやいなや、水洗トイレやエレベーターなど180度の発想の転換をもって革新する西歐人のエネルギー。江戸末期の日本人は、そのパワーに圧倒され西歐崇拜になってしまったのだろうが、もう一度、バテレンの昔を思い出していきたい。

そして、4) 明治の日本が短期間に欧米に追いつけたのも、それまでの蓄積があったからだということをヨーロッパの人たちにも知ってほしい。「エコノミック・アニマル」「働きすぎ」「うさぎ小屋」などの言葉は、彼らの日本への<sup>せんぼう</sup>羨望、警戒の裏返し。その感情は、5) 発展著しい中国を見る現在の日本人と同じと言えば、日本の方々も彼らを理解できるかも。もう少し早く日本人は気づくべきだった。

問1 下線部1)に関して、次の(1)~(3)に答えなさい。

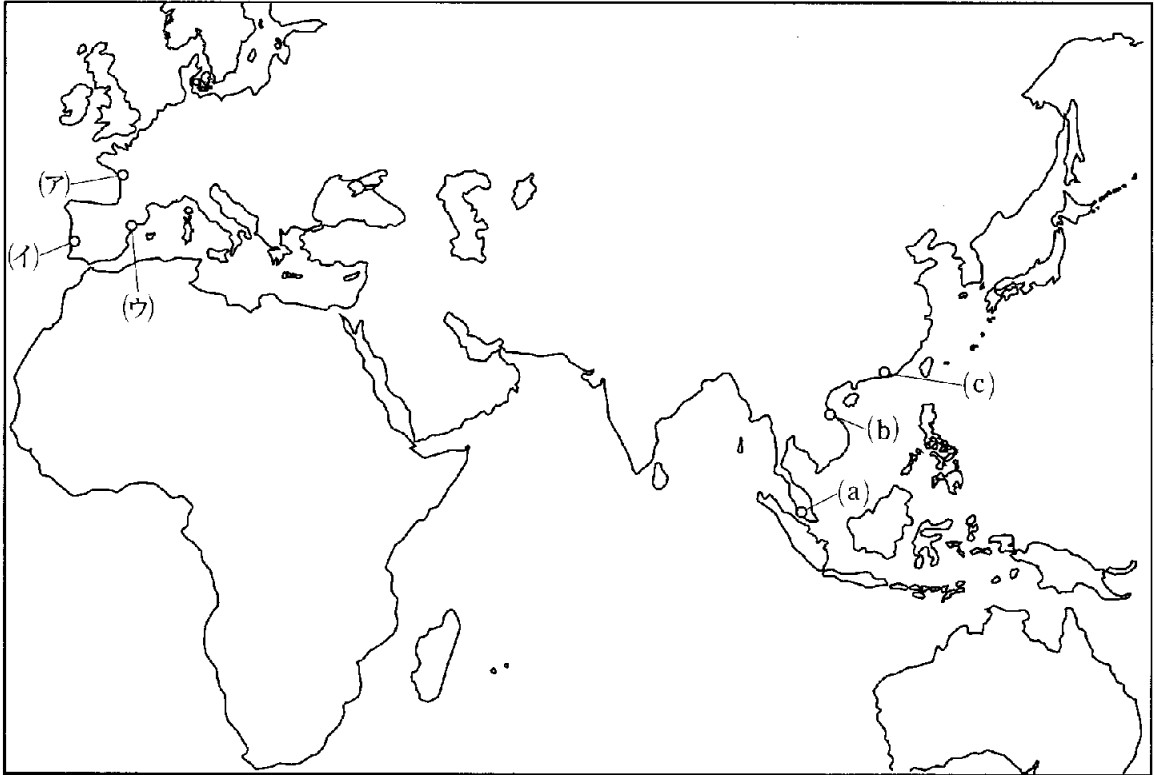
- (1) 大航海時代にはポルトガル・スペインの商人や宣教師たちがアジアへ多く来航しましたが、その背景として考えられるヨーロッパの状況について述べた次の文章①~④のうち、内容の最も適当なものを一つ選び、番号で答えなさい。

(マーク解答欄)

- ① 中国の元に仕えたイタリア商人であるマルコ=ポーロが著した『世界の記述(東方見聞録)』が広く読まれ、アジアには金が豊富にあると考えられていた。
- ② アジア原産のトウモロコシやジャガイモなどの食料品の需要が高まっていたことや、肉料理の味付けや保存に欠かせないアジア原産の香辛料が高値で取り引きされていた。
- ③ キリスト教改革派のカトリック教会と激しく争ったプロテスタント教会が、ザビエルらを中心にイエズス会を結成して勢力回復をはかっていた。
- ④ ローマ法王が地球の公転を認めたことで地図や天文航法の発達が進み、また羅針盤が広く利用されるようになったため、遠洋航海術が著しく進歩していた。

- (2) 文中のにはスペインが東南アジアで植民地にした国名が入りますが、それはどこか答えなさい。(記述解答欄)

- (3) 文中のマカオはポルトガル人が居住権を得て、アジア貿易の根拠地の一つとした地域です。下の地図中(ア)～(ウ)よりポルトガルの港リスボンの位置を、また(a)～(c)からマカオの位置をそれぞれ選んだとき、正しい組み合わせになるのは、次の①～⑥のうちどれですか。一つ選び、番号で答えなさい。(マーク解答欄)



- ① (ア)―(a)    ② (イ)―(a)    ③ (ウ)―(b)  
④ (ア)―(b)    ⑤ (イ)―(c)    ⑥ (ウ)―(c)

問2 下線部2)に関連して、人権の歴史について述べた次の文章①～④のうち、内容の最も適当なものを一つ選び、番号で答えなさい。(マーク解答欄)

- ① イギリスでは、マグナ=カルタの制定以来、法意識の発展が見られたが、17世紀の名誉革命で権利の章典が承認されるとともに王政が否定され、以来共和国体制が続いている。
- ② フランスでは、パリの民衆の蜂起にはじまるフランス革命によって、人権宣言が採択された。この内容は世界に大きな影響を与え、後に出されたアメリカ独立宣言にもその影響をみることができる。
- ③ フランスの植民地であったハイチでは、フランス革命やアメリカ独立革命の影響を受けた黒人奴隷が立ち上がり、奴隷制廃止を勝ちとり、19世紀はじめにフランスからの独立を果たした。
- ④ アメリカ合衆国では、19世紀の南北戦争後に出されたリンカーンの奴隷解放宣言によって、法的な市民権を獲得した黒人奴隷は、その多くが南部の自作農となって社会的に進出した。

問3 下線部3)に関して、次の(1)～(4)に答えなさい。

- (1) 次のⅠ群とⅡ群から、鎖国の時期の文化・学問に関する人物と事項(または「作品」)をそれぞれ選んだとき、正しい組み合わせになるものは何組できますか。下の①～⑥から一つ選び、番号で答えなさい。(マーク解答欄)

Ⅰ群

本居宣長 菱川師宣 宮崎安貞 松尾芭蕉 狩野永徳 小林一茶 井原西鶴

Ⅱ群

人形浄瑠璃 浮世絵 狂歌 和算 蘭学 歌舞伎おどり お伽草子  
『東海道中膝栗毛』 『奥の細道』 『唐獅子図屏風』 『燕子花図屏風』

- ① 0組    ② 1組    ③ 2組    ④ 3組    ⑤ 4組    ⑥ 5組

(2) 鎖国の時期の日本社会や農村の状況について、内容の最も適当なものを次の①～⑤から一つ選び、番号で答えなさい。(マーク解答欄)

- ① 米の買いしめ、売り惜しみから米騒動が全国に広がった。
- ② 口分田が不足したため、墾田永年私財法が出された。
- ③ 新田開発と農業技術が進歩し、商品作物が作られた。
- ④ 公地公民にもとづいて戸籍が作られ、6歳以上の男女に口分田が与えられた。
- ⑤ 牛馬耕や二毛作が始まり、農業生産が高まった。

(3) 次の4つの資料(あ)～(え)のうち、徳川時代に出された法令が一つあります。その法令名を記述しなさい。(各資料は一部を要約) (記述解答欄)

資料(あ)

一 質入や売買した土地について  
所領を質に入れて流したり、売買したりすることは、御家人たちが窮乏するもとであるので、今後はいっさいをやめよ。

資料(い)

一 文武を兼ね備え、弓馬の道にもっばらはげむこと。  
一 城を修理するときは必ず届け出よ。新たに城をきずいてはならない。

資料(う)

一 百姓が刀・わきざし・弓・やり・鉄砲、その他の武具を所持することを固く禁止する。  
一 百姓は、農具を持ち、耕作だけを行なっていれば、子々孫々まで長く続くであろう。

資料(え)

正長元年よりさきは、神戸四か郷に負い目あるべからず

(4) 日本人の海外への行き来を禁止してから開国されるまでの幕府の海禁政策を鎖国とよぶとすると、文中の□B□に入る数字として最も適当なものは、次の①～④のうちどれですか。一つ選び、番号で答えなさい。(マーク解答欄) □6□

- ① 180    ② 200    ③ 220    ④ 240

問4 下線部4)に関して、次の(1)・(2)に答えなさい。

(1) 明治政府が行った近代化のための改革として、あてはまらないものを次の①～④から一つ選び、番号で答えなさい。(マーク解答欄) □7□

- ① 地主の土地を強制的に買い上げ、小作人に安く売り渡す。  
② 満20歳以上の男子は兵役の義務を負う。  
③ 税制を改め、地価の3%を地租として現金で納めさせる。  
④ 6歳以上の男女に小学校教育を受けさせる。

(2) 次のA～Eのカードは、すべて明治時代の日本が外国とかかわった事項を記したものです。このA～Eのカードを、起こった年代順に正しく並べたものを下の①～④から一つ選び、番号で答えなさい。(マーク解答欄) □8□

**A**  
日朝修好条規を結んだ。

**B**  
三国干渉によって遼東半島を清に返還した。

**C**  
ポーツマス条約を結んだ。

**D**  
岩倉使節団を欧米諸国に派遣した。

**E**  
義和団事件が起こった清に兵をおくった。

- ① A→D→B→C→E    ② D→A→B→E→C  
③ A→D→C→B→E    ④ D→A→E→B→C

問5 (下線部5)に関連して、次の表は、日本と中国のかかわりについてまとめたものです。これを見て、(1)~(4)に答えなさい。

時代	できごと
飛鳥	白村江の戦いで唐と□1□の連合軍に敗れた。
奈良	遣唐使をたびたび派遣して、 <u>あ)唐の制度や文化を積極的に取り入れた。</u>
平安	平清盛が、宋と貿易をおこなった。
鎌倉	元が二度にわたって北九州に襲来した。
室町	明が沿岸を襲う□い□の取締りを室町幕府に要請した。
安土・桃山	豊臣秀吉が朝鮮に出兵するも、朝鮮の抵抗や明の援軍により挫折した。
江戸	□2□
明治	日清戦争ののち、下関条約を結んだ。
大正	中国に二十一か条の要求をおこなった。
昭和	日中平和友好条約を結んだ。

(1) 表中の□1□・□2□にあてはまる語句・文章の組み合わせとして、最も適切なものはどれか。次の①~⑥のうちから一つ選び、番号で答えなさい。

(マーク解答欄) □9□

- ① □1□—新羅 □2□—中国との貿易をする商人には、勘合という合札をもたせた。
- ② □1□—百済 □2□—商人らは朱印状を与えられ、朱印状をもった貿易船が中国の港にも寄港した。
- ③ □1□—高句麗 □2□—大輪田泊が整備され、中国との貿易が活発になった。
- ④ □1□—新羅 □2□—商人らは朱印状を与えられ、朱印状をもった貿易船が中国の港にも寄港した。
- ⑤ □1□—百済 □2□—大輪田泊が整備され、中国との貿易が活発になった。
- ⑥ □1□—高句麗 □2□—中国との貿易をする商人には、勘合という合札をもたせた。

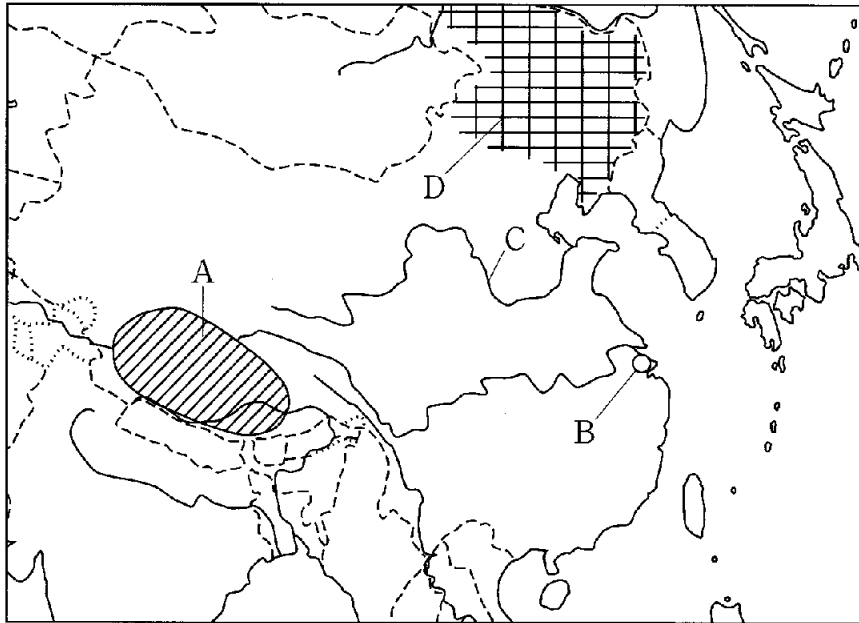
(2) 下線部あ)によって、この頃の日本に与えた影響として、内容の最も適当なものを次の①～⑤から一つ選び、番号で答えなさい。(マーク解答欄)

- ① 守護・地頭に対して、租・庸・調の徴収権を認めることで財政の立て直しがはかられた。
- ② 律令が整備されるとともに、都城制の新都も造営され、天皇を中心とする国家体制が構築された。
- ③ 天台宗や真言宗などの新しい仏教や儒教思想がもたらされたことで、身分ではなく才能によって役人が採用されるようになった。
- ④ 農村での自治意識が高まり、有力農民を中心に惣がつくられはじめた。
- ⑤ 貨幣経済が日本にも浸透し、為替なども生まれたが、貧富の差が拡大した。

(3) 文中の  にあてはまる最も適当な語句を、漢字2字で答えなさい。

(記述解答欄)

- (4) 次の地図について述べた下の文章①～④のうち、内容の最も適当なものを一つ選び、番号で答えなさい。(マーク解答欄)



- ① Aの地域は、ウイグル族が居住しており、羊やヤクを家畜として飼育し牧畜をおこなっている。多くはイスラム教徒であり、近年中国からの独立運動が活発化している。
- ② Bの都市は、ホンコンに隣接して設けられた中国最初の経済特区であり、外国資本の導入が進み、日本との合弁企業も増えている。周辺地域では稲の二期作などがおこなわれている。
- ③ Cの河川流域は、世界最大のサンシアダムがつくられ、またパオトウの鉄鋼・機械工業も大規模である。一方、森林伐採の影響でたびたび洪水の被害を出すなど、環境悪化の問題も著しい。
- ④ Dの地域は、中国最大の重化学工業地域であり、かつては日本により満州国が建国された地域である。雨が少ないため、畑でのとうもろこし栽培がさかんである。

〔2〕 次の資料1～資料4は世界主要国のエネルギー消費に関するものです。資料中のA～Eは国名であり、日本・中国・アメリカ・ロシア・ドイツの5か国のいずれかが入ります。これを見て、あとの各問いに答えなさい。

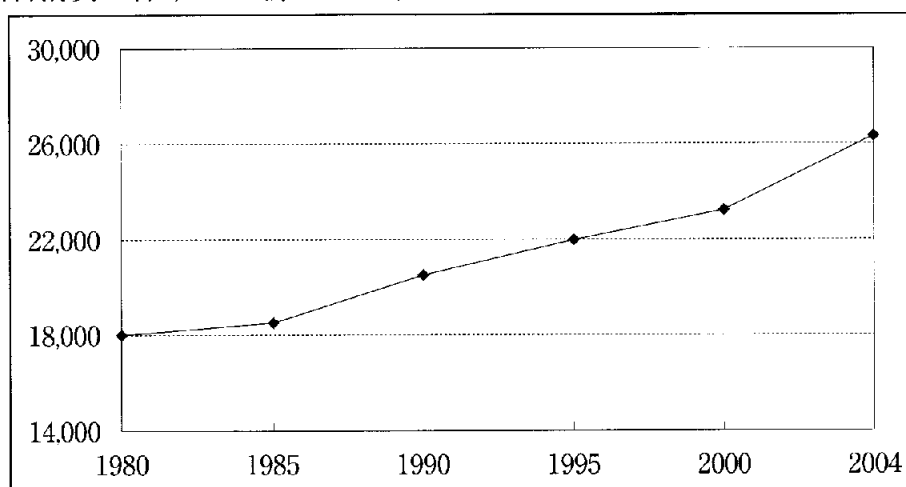
資料1

燃料消費に伴う CO<sub>2</sub> 排出量上位国のシェア

国	1980年	1990年	2000年	2004年
A	25.8%	23.3%	24.3%	21.8%
B	7.7%	10.9%	12.7%	17.8%
C	統計なし	9.8%	6.5%	5.8%
D	4.8%	5.1%	5.1%	4.6%
インド	1.6%	2.8%	4.1%	4.1%
E	5.9%	4.6%	3.5%	3.2%

資料2

燃料消費に伴う CO<sub>2</sub> 排出量の推移



※縦軸の単位は百万トン

資料1・2は外務省エネルギー基礎統計資料（平成19年2月）より作成

資料3

石油消費量上位6か国（2007年）

順位	国	消費量 (千バレル/日)
1位	A	20698
2位	B	7855
3位	D	5051
4位	インド	2748
5位	C	2699
6位	E	2393

資料3はBP Statistical Review of World Energy 2008より作成

資料4

各国のエネルギー輸入依存度（2004年）とエネルギーをめぐる状況

国	全一次 エネルギー	石炭	石油	天然ガス	エネルギーをめぐる状況
A	33.2%	3.6%	67.2%	18.4%	広大な国土には、石炭、石油、天然ガスなどのエネルギー資源が豊富に存在している。
B	10.5%	1.0%	49.1%	0.0%	近年、石油消費量がふくれ上がり、1993年からは輸入量が輸出量を上回った。
C	2.0%	8.7%	1.0%	1.1%	資源が豊富で、天然ガスの生産量は世界一。資源輸出による経済発展が目覚ましい。
D	82.2%	100.0%	99.1%	96.2%	石油危機以来、脱石油をはかり、原子力開発と電力源の多様化に取り組んでいる。
E	65.0%	32.6%	97.1%	83.2%	豊富な石炭資源があり、また、風力による発電量は世界一である。

資料4は外務省エネルギー基礎統計資料（平成19年2月）より作成

問1 資料中のA～E国に関して述べた次の文章①～⑤のうち、内容の最も適当なものを一つ選び、番号で答えなさい。(マーク解答欄)

- ① A国は、地球の人口の約5分の1が居住しており、夏季オリンピックを開催したこともある。
- ② B国には、半導体関連企業の集中するシリコンバレーとよばれる先端産業地域がある。
- ③ C国のある大陸は、環太平洋造山帯に属するロッキー山脈がある。
- ④ D国は、国際連合の安全保障理事会の常任理事国をつとめ、夏季オリンピックを開催したこともある。
- ⑤ E国は、ヨーロッパ連合の加盟国であり、夏季オリンピックを開催したこともある。

問2 中国は2004年の時点で、何トンのCO<sub>2</sub>を排出していると考えられますか。資料を参考にして、次の①～⑥のうちから最も適当なものを一つ選び、番号で答えなさい。(マーク解答欄)

- ① 約5億トン      ② 約8億トン      ③ 約16億トン
- ④ 約22億トン    ⑤ 約47億トン    ⑥ 約58億トン

問3 今日、地球環境をめぐる問題が大きな課題となっていますが、1992年に各国の政府代表とNGOが参加して、環境と開発に関する国連会議が開催されました。ここでは環境と開発に関する宣言や、アジェンダ21(21世紀に向けた人類の行動計画)が採択され、気候変動枠組条約および生物多様性条約についての署名がおこなわれています。この会議が開催された都市はどこか答えなさい。(記述解答欄)

〔3〕日本列島は地殻プレートがいくつもぶつかってできているため、地震や火山活動など変動が大きい地域です。また、気候面でも温帯に属し、四季の変化が大きくなっています。そのため私たちの生活も豊かな一方、さまざまな災害の危険と隣り合わせとなっています。このことに関して、あとの各問いに答えなさい。

問1 日本列島付近は4つのプレートが接しています。その一つはユーラシアプレートですが、他の3つにあてはまらないものを次の①～④の中から一つ選び、番号で答えなさい。(マーク解答欄)

- ① 北アメリカプレート      ② 太平洋プレート  
③ フィリピン海プレート      ④ インド・オーストラリアプレート

問2 兵庫県南部地震などの内陸直下型地震の震源となるものは何ですか、漢字3字で答えなさい。(記述解答欄)

問3 日本の気候は海流の影響を強く受けていますが、次の中で日本の気候にかかわりがない海流を次の①～④の中から一つ選び、番号で答えなさい。  
(マーク解答欄)

- ① ラブラドル海流      ② 対馬海流      ③ 日本海流      ④ 千島海流

問4 近年、特定の狭い地域に集中する災害が増えています。昨年夏も日本各地で局所的集中豪雨により、アスファルトやコンクリートで固められた地下街や排水路での災害が数多く発生しました。このような災害のタイプを( )の災害とよびます。  
( )内に入る最も適切な語句を、漢字3字で答えなさい。  
(記述解答欄)

問5 日本列島は豊かな自然に恵まれ、その保全がはかられています。その方策として世界遺産への登録がすすめられていますが、次の中で世界遺産に登録されていないものはどれですか、次の①～④の中から一つ選び、番号で答えなさい。  
(マーク解答欄)

- ① 屋久島      ② 白神山地      ③ 富士山      ④ 知床

[4] 次の資料は日本国憲法の一部です。これに関して、あとの各問いに答えなさい。

第 11 条 国民は、すべての基本的人権の享有を妨げられない。この憲法が国民に保障する基本的人権は、侵すことのできない永久の権利として、現在及び将来の国民に与えられる。

第 25 条 ①すべて国民は、健康で文化的な最低限度の生活を営む権利を有する。

②国は、すべての生活部面について、社会福祉、社会保障及び公衆衛生の向上及び増進に努めなければならない。

問 1 日本国憲法で保障された基本的人権は世界各地での民主化の戦いの中で獲得されてきたものです。思想家とその考え方の組み合わせとして最も適当なものを次の①～④の中から一つ選び、番号で答えなさい。(マーク解答欄)

- ① ロック：社会主義      ② モンテスキュー：三民主義  
③ ルソー：人民主権      ④ マルクス：三権分立

問 2 日本国憲法第 25 条の規定は生存権の規定ですが、この権利を初めて取り入れたものを次の①～④の中から一つ選び、番号で答えなさい。(マーク解答欄)

- ① イギリス マグナカルタ      ② アメリカ独立宣言  
③ フランス人権宣言      ④ ドイツ ワイマール憲法

問 3 日本国憲法では男女平等も規定されていますが、現実の社会には男女差別が残っています。1999 年、男女の区別なく、個人として能力を生かすことのできる社会づくりの実現をめざす法律が施行されました。この法律名を答えなさい。

(記述解答欄)

問4 参政権も重要な人権の一つですが、昨年秋の日本の国会では参議院で野党が多数を占める「ねじれ国会」となっていました。このような場合、衆議院の優越が認められていますが、次の①～④の文章の中で適切でないものを一つ選び、番号で答えなさい。(マーク解答欄)

- ① 条約の承認については参議院が衆議院の可決した議案を受け取った後、国会休会中の期間を除いて30日以内に議決しないときは、衆議院の議決が国会の議決となる。
- ② 衆議院で可決した法律案を参議院が異なった議決をした場合、衆議院で出席議員の3分の2以上の多数で再び可決したときは、衆議院の再可決が有効となる。
- ③ 予算について参議院が衆議院と異なった議決をした場合、両院協議会でも意見が一致しなかったときは、衆議院の議決が国会の議決となる。
- ④ 内閣総理大臣の指名で衆議院と参議院が異なった議決をした場合、衆議院で出席議員の3分の2以上の多数で再び可決したときは、衆議院の再可決が有効となる。

問5 日本の内閣総理大臣は国民の直接選挙ではなく、国会議員の中から国会で選ばれます。このような議院内閣制のしくみについて、次の①～④の中で最も適当なものを一つ選び、番号で答えなさい。(マーク解答欄)

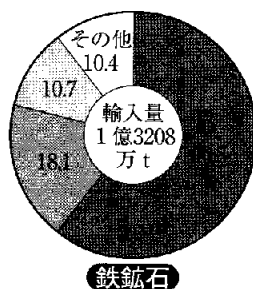
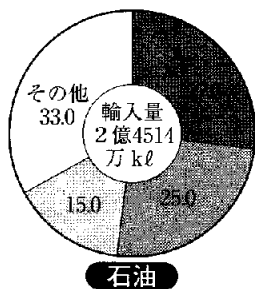
- ① 総選挙でこれまでの与党が引き続き多数を占めた場合は内閣は総辞職せず、そのまま継続する。
- ② 国務大臣は内閣総理大臣の指名によるため、国会に対しては内閣総理大臣だけが責任を負う。
- ③ 内閣不信任決議は衆議院だけが議決することができる。
- ④ 内閣は三権の一つとしての独立性を保つため、全閣僚のうち国会議員は2分の1を超えてはならない。

問6 生存権の保障のためさまざまな社会保障制度が整備されていますが、昨年、75歳以上の人を対象とした新しい医療制度が適用されたことが大きな問題となりました。これを( )医療制度といいます。( )に入る最も適当な語句を、漢字5字で答えなさい。(記述解答欄)

〔5〕 昨年は輸入食品の安全問題，原油などの値上がり，アメリカで発生した世界的な金融不安などさまざまな問題が発生し，私たちの生活も世界と深くつながっていることを実感させられました。このことに関して，あとの各問いに答えなさい。

問1 中国は，日本もこの国から多くの加工食品を輸入しているように，世界に向けて多くの工業製品を輸出するようになってきています。そこで，中国のことを最近何とよぶようになってきていますか，最も適切な語句を，5字で答えなさい。(記述解答欄)

問2 日本は資源，食糧，工業製品などさまざまなものを輸入に頼っていますが，次のグラフは石油，鉄鉱石，とうもろこしの輸入先の割合を示したものです。このグラフ内のA，B，Cの国の組み合わせとして最も適切なものを下の①～⑥の中から一つ選び，番号で答えなさい。(マーク解答欄)



2004年経済産業省資料  
通産白書

- |              |           |           |
|--------------|-----------|-----------|
| ① A：イラン      | B：インド     | C：アメリカ合衆国 |
| ② A：アラブ首長国連邦 | B：ブラジル    | C：オーストラリア |
| ③ A：アラブ首長国連邦 | B：オーストラリア | C：中国      |
| ④ A：サウジアラビア  | B：ブラジル    | C：オーストラリア |
| ⑤ A：サウジアラビア  | B：オーストラリア | C：アメリカ合衆国 |
| ⑥ A：イラン      | B：インド     | C：中国      |

問3 日本では1990年代初頭，いわゆる「バブル経済」の崩壊を経験しました。その時の状況について，次の①～④の文章の中で適切でないものを一つ選び，番号で答えなさい。(マーク解答欄)

- ① 地価や株価が大きく下落した。
- ② 銀行の中には多くの不良債権を抱え，経営困難に陥るところもあらわれた。
- ③ 銀行は経営破綻に陥らないように，安い金利で積極的に貸し付けをおこなった。
- ④ 国は金融システムの立て直しのために銀行に多額の公的資金を投入した。

問4 資本主義社会では多くの企業が株式会社の形を取っています。このことについて、次の①～④の文章の中で適切でないものを一つ選び、番号で答えなさい。

(マーク解答欄)

- ① 株式会社は株式を発行して得られた資金を元に設立される。
- ② 株式を購入した人は株主総会に出席して議決に参加できる。
- ③ 株式会社は利潤の一部を配当として株主に分配する。
- ④ ある株式会社の配当が増加するとその株式会社の株価は下がることが多い。

問5 日本銀行が景気を調整する政策として適切でないものを次の①～④の中から一つ選び、番号で答えなさい。(マーク解答欄)

- ① 公定歩合の操作      ② 国債の発行
- ③ 公開市場操作      ④ 預金準備率操作

問6 資本主義社会では商品の価格は需要量と供給量の関係で決まります。需要量と供給量をちょうど一致させる価格は市場価格の中でも特に何とよばれますか、漢字4字で答えなさい。(記述解答欄)