

2011年度 入学試験問題

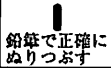
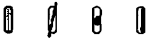

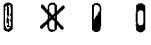
社 会

中京大学附属中京高等学校

試験開始の合図があるまで、この問題冊子を開いてはいけません。
下記の受験上の注意事項をよく読んでください。

===== 受 験 上 の 注 意 事 項 =====

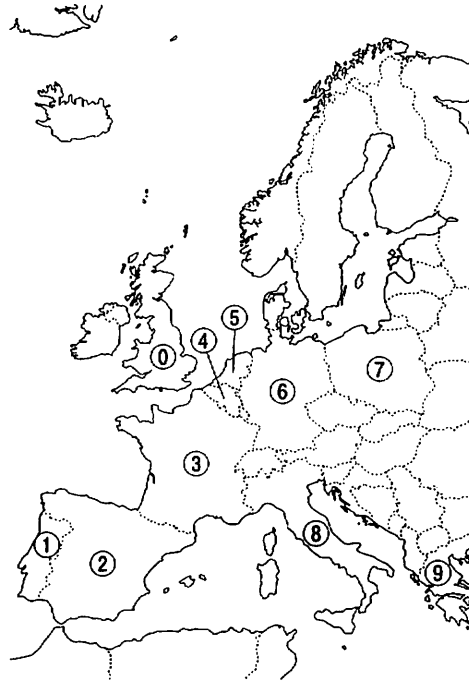
- 1 問題用紙は11ページです。
- 2 試験時間は 40分 です。
- 3 解答用紙に、氏名（フリガナ）・受験番号・中学校名・中学校コードを記入し、受験番号と中学校コードをマークしなさい。
- 4 マークシート記入上の注意
 - ① マークの記入は、必ずHBの黒鉛筆で、所定のマーク解答欄の○を正確にぬりつぶす。
 - ② 記述の記入は、所定の記述解答欄にていねいに行う。
 - ③ 訂正は、プラスチック製消しゴムできれいに消す。
 - ④ 解答用紙を、折り曲げたり、汚したりしない。
*マークされていない場合または必要以上にマークがある場合は、0点です。

マークの仕方	良い例	悪い例
マークをする時		
マークを消す時		

=====

〔1〕 次の問いに答えよ。

問1 次の文章AからCを読んで、当てはまる国の位置をそれぞれ図中の①～⑨のうちから一つずつ選び、記号で答えよ。



文章A (マーク解答欄)

西ヨーロッパに位置する立憲君主制国家。海外領土としてはカリブ海に6つの島を有する。憲法上の首都はアムステルダムだが、政治の中心は王宮や国会の所在地であるハーグである。ヨーロッパ北西部に位置し、東はドイツに隣接し、南はベルギーやルクセンブルクと合わせてベネルクス三国とよばれる。堤防により囲まれた低地。世界第9位の天然ガス産出量を誇る資源産出国である。

文章B (マーク解答欄)

この国家の地形の特色は東から南にかけて山地や山脈という自然の国境がある他は大半が緩やかな丘陵地や平野で可住地に恵まれている。気候は温暖であることとあわせて西ヨーロッパ最大の農業国の基礎となっている。GDPは世界第5位(2008年)の経済大国であり観光客入国数では世界一(2009年)である。

文章C (マーク解答欄)

気候や高度が変化に富んでいるため様々な農作物の栽培が可能である。また世界有数のワイン生産国であり、オリーブとオリーブオイルの生産量も多い。酪農も主要産業であり50種類以上のチーズが生産される。領土内北部ではアルプス山脈が東西に弧を描き国境を成している。領土の南方にはアペニン山脈があり、この山脈が東西の気候の違いを生み出しており、東海岸ではボラ(冬の北東季節風)の影響によって冷たい潮風が吹き付ける。火山国としても有名である。

問2 次のグラフは、それぞれの品目の生産国上位5カ国を示したものである。表中の(ア)から(ウ)に当てはまる国名を語群①～⑧のうちから一つずつ選び、記号で答えよ。
 【解答(ア)はマーク解答欄 へ 解答(イ)はマーク解答欄 へ 解答(ウ)はマーク解答欄 へ】

小麦 2007年 (単位：千t)

(ア)	109,298	18.00%
インド	75,800	12.50%
(イ)	55,823	9.20%
(ウ)	49,390	8.20%
フランス	32,770	5.40%
全体	605,995	100.00%

とうもろこし 2007年 (単位：千t)

(イ)	331,175	41.80%
(ア)	151,949	19.20%
ブラジル	52,112	6.60%
メキシコ	23,513	2.90%
アルゼンチン	21,755	2.70%
全体	791,795	100.00%

大豆 2007年 (単位：千t)

(イ)	72,860	33.00%
ブラジル	57,857	26.20%
アルゼンチン	47,483	21.50%
(ア)	13,800	6.30%
インド	10,968	5.00%
全体	220,533	100.00%

ばれいしょ 2007年 (単位：千t)

(ア)	56,196	18.20%
(ウ)	36,784	11.90%
インド	22,090	7.10%
(イ)	20,373	6.60%
ウクライナ	19,102	6.20%
全体	309,344	100.00%

【世界国勢図会】2009-10年版

語群：

- ① イタリア ② アメリカ合衆国 ③ マレーシア ④ ロシア
 ⑤ 日本 ⑥ エジプト ⑦ シンガポール ⑧ 中国

〔2〕昨年10月、名古屋市で生物多様性条約第10回締約国会議が開かれ、生物多様性の維持やそのための環境保全などが話し合われた。日本でも環境問題は大きな課題であるが、これに関連して次の問いに答えよ。

問1 生物多様性条約は1992年、リオデジャネイロで開かれた国連環境開発会議で日本を含む多くの国が署名した。この国連環境開発会議はその他にも、「気候変動に関する国際連合枠組条約」など重要な内容が話し合われたことから、一般的に何とよばれているか、その会議名を答えよ。(記述解答欄)

問2 名古屋で開催された第10回締約国会議のことを略称で何とよんでいるか、次の①～④のうちから最も適当なものを一つ選び、記号で答えよ。(マーク解答欄)

- ① G8 ② サミット10 ③ G20 ④ COP10

問3 気候変動に関する国際連合枠組み条約の具体化のため、1997年に日本で開かれた地球温暖化防止会議で温室効果ガスの排出削減目標を義務づけたものは何とよばれているかを答えよ。(記述解答欄)

問4 地球温暖化の影響として考えられているものは何か、次の①～④のうちから最も適当なものを一つ選び、記号で答えよ。(マーク解答欄)

- ① 酸性雨 ② オゾン層破壊 ③ 海面上昇 ④ 氷河の拡大

問5 生物保護に関する国際的な条約として有名なものの中に水鳥の生息地として重要な湿地を保存するためのラムサール条約がある。ラムサール条約に登録されているところについて、①～④の地名と略地図上の位置の組み合わせ①～④のうちから最も適当なものを一つ選び、記号で答えよ。(マーク解答欄)

- ① ① a・尾瀬
- ② ② b・谷津干潟
- ③ ③ c・釧路湿原
- ④ ④ d・藤前干潟



問6 日本の自然環境と開発についても各地で課題となっている。略地図上のあ)～え)の地点についての次の①～④の文章のうち、適切でないものを一つ選び、記号で答えよ。(マーク解答欄)

- ① あ) では貴重な珊瑚礁が発達しているが、珊瑚礁の減少が進んでいる。
- ② い) では干拓で干潟が失われたり、有明海的环境に大きな影響が出ている。
- ③ う) では産業廃棄物の不法投棄も環境を破壊している。
- ④ え) では雪や流水などの自然を観光資源として積極的に利用している。

問7 世界自然遺産に登録されているところに白神山地がある。この略地図上のA～Dの位置と特徴について、次の①～④の文章のうちから最も適当なものを一つ選び、記号で答えよ。(マーク解答欄)

- ① Aにある山地で豊富な火山や温泉が観光地となっている。
- ② Bにある山地で原生的なブナの天然林が大きな規模で残っている。
- ③ Cにある山地で樹齢1000年を超える杉の古木が数多く生育している。
- ④ Dにある山地でヒグマ、シマフクロウなどの希少な生物が生息している。

〔3〕次の文章AからDを読んで問いに答えよ。

文章A

日露戦争に勝利した日本は、武力を背景として大韓帝国を保護国とし、韓国の外交権を奪って統監府をおいた。そのため韓国の人々は日本に抵抗する運動をはじめ、解散させられた兵士達は義勇軍に加わり戦った。その後韓国の青年安重根が統監府の初代統監であった〔1〕を暗殺する事件も起こったため、日本は韓国の抵抗をおさえ、韓国を植民地とする韓国併合を行った。

文章B

日本の植民地となった朝鮮では京城などで独立運動がおこり、「三・一独立運動」とよばれる運動が全国に広がった。日本はこれを弾圧したが、運動は各地へ広がりその暴動は数ヶ月間にわたって行われた。

文章C

日本は中国に対する権益を強めるため、1915年に中国に対して〔2〕を提出し、その多くを認めさせた。しかしこれは中国の反発を招くと共に、欧米諸国の日本への警戒を高める結果ともなった。

文章D

日清戦争や義和団事件によって清の国力は衰えていたため、〔3〕はア)三民主義をと
なえ、革命運動を進め、1911年に武昌で軍隊の反乱が起こったのをきっかけとして多くの地方が清から独立を宣言することとなった。これを辛亥革命といい、翌年〔3〕を臨時大総統とするイ)中華民国が成立した。

問1 〔1〕に当てはまる最も適当なものを、次の①～⑤のうちから一つ選び、記号で答えよ。(マーク解答欄)

- ① 山県有朋 ② 大隈重信 ③ 松方正義 ④ 犬養毅 ⑤ 伊藤博文

問2 〔2〕に当てはまる最も適当な語句を答えよ。(記述解答欄)

問3 〔3〕に当てはまる最も適当な人物名を答えよ。(記述解答欄)

問4 下線部ア)「三民主義」の三つの「民」に関する語句について、適切でないものを次の①～④のうちから一つ選び、記号で答えよ。(マーク解答欄)

- ① 民主 ② 民族 ③ 民生 ④ 民権

問5 下線部イ)「中華民国」について、この国が成立した時期とほぼ同じ頃に起こった出来事として最も適当な事柄を、次の①～⑤のうちから一つ選び、記号で答えよ。

(マーク解答欄)

- ① フランス革命 ② ロシア革命 ③ 名誉革命 ④ アメリカ独立革命
⑤ 明治維新

〔4〕次の略年表をみて以下の問いに答えよ。

年号	出来事
1185	①源平の戦いで平氏が滅びる
1192	②源頼朝が征夷大將軍に任命される
1221	承久の乱がおこる
1232	③御成敗式目を制定する
1274	④元軍が襲来する
1297	永仁の徳政令を出す
1338	足利尊氏が幕府を開く

問1 下線部①について、この年に平氏が滅んだ戦いの場所を次の①～⑤のうちから一つ選び、記号で答えよ。(マーク解答欄)

- ① 壇ノ浦 ② 屋島 ③ 倶利伽羅 ④ 長篠 ⑤ 木曾

問2 下線部②の前の時期に弟の義経は頼朝に追われ東北地方へ逃げたが、その際に義経をかくまったとされる東北地方の有力豪族を何氏というか。漢字4文字で答えよ。
(記述解答欄)

問3 下線部③の法令を出した幕府の執権として正しいものを①～④のうちから一つ選び、記号で答えよ。(マーク解答欄)

- ① 北条時政 ② 北条義時 ③ 北条泰時 ④ 北条時頼

問4 下線部④の出来事を何というか。漢字2文字で答えよ。(記述解答欄)

問5 次の文章は、ある人物が承久の乱において武士たちによびかけた演説です。この演説をした人物として正しいものを、あとの①～④のうちから一つ選び、記号で答えよ。
(マーク解答欄)

「武士たちは、以前は3年間の都の警備を終えたとき、費用を使い果たして馬を放し、とほとほと帰ってきたではないか。頼朝公はそれをあわれに思い、3年を6ヶ月に縮め、生活が成り立つようにされたのだ。この情け深い御心を忘れて、京都に味方するのか。それとも鎌倉にとどまって將軍家に奉公するのか、今はっきりと申してみよ」

- ① 北条政子 ② 北条時宗 ③ 後鳥羽上皇 ④ 日野富子

〔5〕次の文章を読んで問いに答えよ。

近代的な軍隊の創設を目指す政府は、1872（明治5）年の徴兵告諭にもとづき、翌年1月にア)徴兵令を公布した。これにより、3年間の兵役に服させる統一的な兵制がたてられた。

また国内統一と平行して、封建的身分制度の撤廃も進められた。藩主や公家を華族、藩士や旧幕臣を士族とした。同時に「農工商」の百姓・町人は平民となり、いわゆる四民平等の世になった。さらに近代的政策を進めるために財政の安定を必要とした政府は土地制度・税制の改革をおこなう必要があった。1872年には〔 1 〕を発行して土地の所有権を認めた。この制度をもとに1873年7月にイ)地租改正条例を公布して地租改正に着手し、1881年までにほぼ完了した。

問1 〔 1 〕に当てはまる最も適当な語句を、漢字2文字で答えよ。

（記述解答欄）

問2 下線部ア)について述べた文章として適切でないものを、次の①～④のうちから一つ選び、記号で答えよ。（マーク解答欄）

- ① 満20歳に達した男子が徴兵された。
- ② 国民皆兵を原則として公布された。
- ③ 学生や官吏のほか、代人料270円を納入した者は徴兵を免除された。
- ④ 実際に兵役に就いたのは農村の長男がほとんどであった。

問3 下線部イ)について述べた文として最も適当なものを、次の①～④のうちから一つ選び、記号で答えよ。（マーク解答欄）

- ① 米による税の納入によって、米価の変動をうけた結果、国の収入は増加した。
- ② 当初地租は地価の2.5%とされていたが、政府の反対で3%に引き上げられた。
- ③ 農民にも土地の所有権が認められ、小作人の立場にいた人たちの大部分は地主から解放されて、自作農となった。
- ④ 政府は条例を公布する前に田畑の売買をみとめる法令をだしていた。

〔6〕昨年、名古屋市や鹿児島県阿久根市では市議会の解散や市長の解職を求める署名運動が展開された。名古屋市では必要署名数を越え、住民投票が実施されることになった。

このように、地方自治のもとでは住民が直接政治に参加する直接民主制の形式が取り入れられている。これに関する問いに答えよ。

問1 人民主権をとなえるとともに直接民主制を理想と主張した人物または著作等について、次の①～④のうち、最も適当なものを一つ選び、記号で答えよ。

(マーク解答欄)

- ① マグナカルタ ② モンテスキュー ③ ルソー
- ④ ワイマール憲法

問2 憲法改正は最も基本となる法の改正であるため、国民の同意が必要であるとして、普通の法律改正とは違う国民が参加する手続きが定められている。このことに関する次の文章①～④のうち、最も適当なものを一つ選び、記号で答えよ。

(マーク解答欄)

- ① 憲法改正の発議は衆参各議院の総議員の過半数の賛成による。
- ② 衆議院と参議院の議決が異なった場合、衆議院での三分の二以上の再可決で発議できる。
- ③ 国民投票では投票の三分の二以上の賛成で改正が承認される。
- ④ 国民の承認は18歳以上の国民による国民投票で行われる。

問3 地方自治は住民に身近な問題が多く、住民が直接参加する制度も多いことから「民主主義の学校」とよばれる。地方自治の役割について、次の①～④のうち、適切でないものを一つ選び、記号で答えよ。(マーク解答欄)

- ① 上下水道などの建設や管理
- ② 健康保険、介護保険や厚生年金の管理、運用
- ③ 地域の高齢者福祉や障害者福祉
- ④ 保健や衛生など地域の環境衛生行政

問4 都道府県や市町村の議員はもちろん、首長も住民の選挙で選出される。次の①～④のうち、被選挙権が30歳以上のものを一つ選び、記号で答えよ。

(マーク解答欄)

- ① 都道府県の知事 ② 市町村長 ③ 都道府県議会議員
④ 市町村議会議員

問5 地方自治は1999年以前は国の行政の請け負いの性格が強く、財源も国からの支出でかなりの部分がまかなわれていたため、三割自治と比喻されていた。現在では独自性を発揮できる方向が拡大されているが、教育や経済政策などについての規制を緩和できる特定の地域が認められている。この特定の地域を何というか、漢字6文字で答えよ。(記述解答欄)

問6 教育も地方自治の重要な役割であり、規制緩和が進んできた。下のあ)～え)について地方自治体が実施できるものはどれか。最も適当なものの組み合わせを①～⑥のうちから一つ選び、記号で答えよ。(マーク解答欄)

- あ) 飛び級制度 い) 少人数学級 う) 小中高の一貫教育
え) 高校の授業料無償化

- ① あ)・い) ② あ)・う) ③ い)・う)
④ い)・え) ⑤ う)・え) ⑥ あ)・え)

問7 地方自治では住民の直接請求権が認められている。これに関する次の①～④の文章のうち、適切でないものを一つ選び、記号で答えよ。(マーク解答欄)

- ① 条例の制定・改廃請求は住民の有権者の50分の1以上の署名が必要である。
② 首長や議員の解職請求は住民の有権者の3分の1以上の署名が必要である。
③ 条例の制定・改廃請求が認められた場合は該当する議会で審議する。
④ 解職請求で住民の有権者の3分の1以上の署名が集まれば首長・議員は失職する。

問8 首長や議員の解職請求は一般に何とよばれるか、カタカナで答えよ。

(記述解答欄)

〔7〕 次の文章を読んで問いに答えよ。

日本経済は近年の不況からなかなか脱出できず、いまだに回復できないでいる。そのため、学生や非正規雇用の人たちの就職難は続き、雇用の創出が求められている。また日本経済は海外への輸出に依存してきたため、アメリカ、ヨーロッパのほか、近年では中国やアジア諸国の景気動向にも大きく左右されるようになった。昨年も日本の経済は十分に回復していないにもかかわらず、円高が進み、輸出企業の業績が回復せず、景気回復が遅れるという状況に陥ってしまった。

問1 1980年代後半にも為替相場の影響で輸出産業が打撃を受けた不況が起こったが、この不況を何というか、次の①～④のうち、最も適当なものを一つ選び、記号で答えよ。(マーク解答欄)

- ① 円高不況 ② 金融恐慌 ③ バブル崩壊 ④ 戦後恐慌

問2 日本では再び不況に陥ることが恐れられているが、企業が倒産すると消費がふるわなくなり、商品価格が下落してさらに企業の倒産や業績悪化につながるという悪循環に陥ることが懸念されている。このような悪循環を何というか、カタカナで答えよ。(記述解答欄)

問3 円高の影響について、次の①～④の文章のうち、適切でないものを一つ選び、記号で答えよ。(マーク解答欄)

- ① 円でドルを買う場合に円の支払い金額が多くなるので円高という。
② 日本から外国へ商品を輸出する場合、価格が高くなってしまう。
③ 日本が外国の商品を輸入する場合、価格が安くなり、日本に有利である。
④ 円高の時には日本人が海外旅行に行くことは得になる。

中京大学附属中京高等学校 社会 解答用紙

フリガナ	
氏名	

注意事項 ※には、何も記入しないでください。

受験番号				
1	<input type="text"/>	<input type="text"/>	<input type="text"/>	<input type="text"/>
2	<input type="text"/>	<input type="text"/>	<input type="text"/>	<input type="text"/>
3	<input type="text"/>	<input type="text"/>	<input type="text"/>	<input type="text"/>
4	<input type="text"/>	<input type="text"/>	<input type="text"/>	<input type="text"/>
5	<input type="text"/>	<input type="text"/>	<input type="text"/>	<input type="text"/>
6	<input type="text"/>	<input type="text"/>	<input type="text"/>	<input type="text"/>
7	<input type="text"/>	<input type="text"/>	<input type="text"/>	<input type="text"/>
8	<input type="text"/>	<input type="text"/>	<input type="text"/>	<input type="text"/>
9	<input type="text"/>	<input type="text"/>	<input type="text"/>	<input type="text"/>
0	<input type="text"/>	<input type="text"/>	<input type="text"/>	<input type="text"/>

中学校名	
中学校	
中学校コード	
1	<input type="text"/>
2	<input type="text"/>
3	<input type="text"/>
4	<input type="text"/>
5	<input type="text"/>
6	<input type="text"/>
7	<input type="text"/>
8	<input type="text"/>
9	<input type="text"/>
0	<input type="text"/>

解答 番号	マーク解答欄										解答 番号	マーク解答欄										記述解答欄		※	※	
	1	2	3	4	5	6	7	8	9	0		1	2	3	4	5	6	7	8	9	0					
1	<input type="text"/>	<input type="text"/>	<input type="text"/>	<input type="text"/>	<input type="text"/>	<input type="text"/>	<input type="text"/>	<input type="text"/>	<input type="text"/>	<input type="text"/>	26	<input type="text"/>	<input type="text"/>	<input type="text"/>	<input type="text"/>	<input type="text"/>	<input type="text"/>	<input type="text"/>	<input type="text"/>	<input type="text"/>	<input type="text"/>	A			<input type="text"/>	<input type="text"/>
2	<input type="text"/>	<input type="text"/>	<input type="text"/>	<input type="text"/>	<input type="text"/>	<input type="text"/>	<input type="text"/>	<input type="text"/>	<input type="text"/>	<input type="text"/>	27	<input type="text"/>	<input type="text"/>	<input type="text"/>	<input type="text"/>	<input type="text"/>	<input type="text"/>	<input type="text"/>	<input type="text"/>	<input type="text"/>	<input type="text"/>	B			<input type="text"/>	<input type="text"/>
3	<input type="text"/>	<input type="text"/>	<input type="text"/>	<input type="text"/>	<input type="text"/>	<input type="text"/>	<input type="text"/>	<input type="text"/>	<input type="text"/>	<input type="text"/>												C			<input type="text"/>	<input type="text"/>
4	<input type="text"/>	<input type="text"/>	<input type="text"/>	<input type="text"/>	<input type="text"/>	<input type="text"/>	<input type="text"/>	<input type="text"/>	<input type="text"/>	<input type="text"/>												D			<input type="text"/>	<input type="text"/>
5	<input type="text"/>	<input type="text"/>	<input type="text"/>	<input type="text"/>	<input type="text"/>	<input type="text"/>	<input type="text"/>	<input type="text"/>	<input type="text"/>	<input type="text"/>												E	氏		<input type="text"/>	<input type="text"/>
6	<input type="text"/>	<input type="text"/>	<input type="text"/>	<input type="text"/>	<input type="text"/>	<input type="text"/>	<input type="text"/>	<input type="text"/>	<input type="text"/>	<input type="text"/>												F			<input type="text"/>	<input type="text"/>
7	<input type="text"/>	<input type="text"/>	<input type="text"/>	<input type="text"/>	<input type="text"/>	<input type="text"/>	<input type="text"/>	<input type="text"/>	<input type="text"/>	<input type="text"/>												G			<input type="text"/>	<input type="text"/>
8	<input type="text"/>	<input type="text"/>	<input type="text"/>	<input type="text"/>	<input type="text"/>	<input type="text"/>	<input type="text"/>	<input type="text"/>	<input type="text"/>	<input type="text"/>												H			<input type="text"/>	<input type="text"/>
9	<input type="text"/>	<input type="text"/>	<input type="text"/>	<input type="text"/>	<input type="text"/>	<input type="text"/>	<input type="text"/>	<input type="text"/>	<input type="text"/>	<input type="text"/>												I			<input type="text"/>	<input type="text"/>
10	<input type="text"/>	<input type="text"/>	<input type="text"/>	<input type="text"/>	<input type="text"/>	<input type="text"/>	<input type="text"/>	<input type="text"/>	<input type="text"/>	<input type="text"/>												J			<input type="text"/>	<input type="text"/>
11	<input type="text"/>	<input type="text"/>	<input type="text"/>	<input type="text"/>	<input type="text"/>	<input type="text"/>	<input type="text"/>	<input type="text"/>	<input type="text"/>	<input type="text"/>															<input type="text"/>	<input type="text"/>
12	<input type="text"/>	<input type="text"/>	<input type="text"/>	<input type="text"/>	<input type="text"/>	<input type="text"/>	<input type="text"/>	<input type="text"/>	<input type="text"/>	<input type="text"/>															<input type="text"/>	<input type="text"/>
13	<input type="text"/>	<input type="text"/>	<input type="text"/>	<input type="text"/>	<input type="text"/>	<input type="text"/>	<input type="text"/>	<input type="text"/>	<input type="text"/>	<input type="text"/>															<input type="text"/>	<input type="text"/>
14	<input type="text"/>	<input type="text"/>	<input type="text"/>	<input type="text"/>	<input type="text"/>	<input type="text"/>	<input type="text"/>	<input type="text"/>	<input type="text"/>	<input type="text"/>															<input type="text"/>	<input type="text"/>
15	<input type="text"/>	<input type="text"/>	<input type="text"/>	<input type="text"/>	<input type="text"/>	<input type="text"/>	<input type="text"/>	<input type="text"/>	<input type="text"/>	<input type="text"/>															<input type="text"/>	<input type="text"/>
16	<input type="text"/>	<input type="text"/>	<input type="text"/>	<input type="text"/>	<input type="text"/>	<input type="text"/>	<input type="text"/>	<input type="text"/>	<input type="text"/>	<input type="text"/>															<input type="text"/>	<input type="text"/>
17	<input type="text"/>	<input type="text"/>	<input type="text"/>	<input type="text"/>	<input type="text"/>	<input type="text"/>	<input type="text"/>	<input type="text"/>	<input type="text"/>	<input type="text"/>															<input type="text"/>	<input type="text"/>
18	<input type="text"/>	<input type="text"/>	<input type="text"/>	<input type="text"/>	<input type="text"/>	<input type="text"/>	<input type="text"/>	<input type="text"/>	<input type="text"/>	<input type="text"/>															<input type="text"/>	<input type="text"/>
19	<input type="text"/>	<input type="text"/>	<input type="text"/>	<input type="text"/>	<input type="text"/>	<input type="text"/>	<input type="text"/>	<input type="text"/>	<input type="text"/>	<input type="text"/>															<input type="text"/>	<input type="text"/>
20	<input type="text"/>	<input type="text"/>	<input type="text"/>	<input type="text"/>	<input type="text"/>	<input type="text"/>	<input type="text"/>	<input type="text"/>	<input type="text"/>	<input type="text"/>															<input type="text"/>	<input type="text"/>
21	<input type="text"/>	<input type="text"/>	<input type="text"/>	<input type="text"/>	<input type="text"/>	<input type="text"/>	<input type="text"/>	<input type="text"/>	<input type="text"/>	<input type="text"/>															<input type="text"/>	<input type="text"/>
22	<input type="text"/>	<input type="text"/>	<input type="text"/>	<input type="text"/>	<input type="text"/>	<input type="text"/>	<input type="text"/>	<input type="text"/>	<input type="text"/>	<input type="text"/>															<input type="text"/>	<input type="text"/>
23	<input type="text"/>	<input type="text"/>	<input type="text"/>	<input type="text"/>	<input type="text"/>	<input type="text"/>	<input type="text"/>	<input type="text"/>	<input type="text"/>	<input type="text"/>															<input type="text"/>	<input type="text"/>
24	<input type="text"/>	<input type="text"/>	<input type="text"/>	<input type="text"/>	<input type="text"/>	<input type="text"/>	<input type="text"/>	<input type="text"/>	<input type="text"/>	<input type="text"/>															<input type="text"/>	<input type="text"/>
25	<input type="text"/>	<input type="text"/>	<input type="text"/>	<input type="text"/>	<input type="text"/>	<input type="text"/>	<input type="text"/>	<input type="text"/>	<input type="text"/>	<input type="text"/>															<input type="text"/>	<input type="text"/>